

3 級 筆記問題

1. 次の(1)・(2)に最も適した事項を、アからエまでの中から一つずつ選んで、その記号を解答欄に記入しなさい。

(1) 夏の日常着 (2) 冬の日常着

- ア 外衣には通気性の少ない材料のものを着用する
- イ 厚い布でひとえ仕立てにする
- ウ 強度の大きい布を用いる
- エ 開口部を大きくする

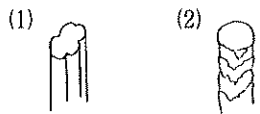
2. 次の文は布の特徴を示したものである。(1)・(2)に適する布地名を、アからオまでの中からそれぞれ一つずつ選んで、その記号を解答欄に記入しなさい。

(1) 綿の単糸を用いた粗目の平織物で、糸の太さや密度によって厚地・中厚地・薄地等の種類があり、エプロンやブラウスに用いられる

(2) 太い羊毛を用いた平織または斜文織の布で、厚手で弾力性があるため、スーツ・パンツ・スカートなどに用いられる

- ア ブロード
- イ デニム
- ウ シーティング
- エ ツイード
- オ ネル

3. 下図の(1)・(2)は繊維を顕微鏡で見てスケッチしたものである。最も適する繊維名をアからオまでの中からそれぞれ一つずつ選んで、その記号を解答欄に記入しなさい。



- ア 麻
- イ ポリエステル
- ウ 絹
- エ アセテート
- オ 毛

4. 次の衣服に最も適するアイロン温度をアからウまでの中から一つ選んで、その記号を解答欄に記入しなさい。

綿のワイシャツ

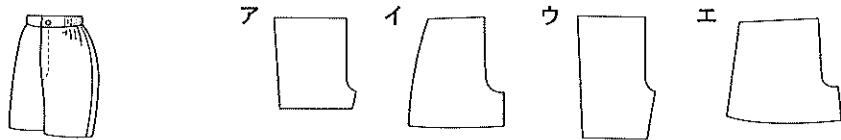
- ア 低 (80~120℃)
- イ 中 (140~160℃)
- ウ 高 (180~210℃)

5. 次の(1)・(2)はミシンの調子の悪い場合である。その原因について該当するものを、アからエまでの中からそれぞれ一つずつ選んで、その記号を解答欄に記入しなさい。

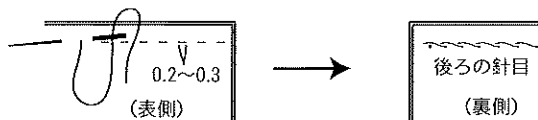
(1) 上糸が切れる (2) 針目がとぶ

- ア 布地に対して針と糸の太さが適当でないとき
- イ 針が針板の針穴の中心に通るようにつけていないとき
- ウ 上糸の調子が強すぎるとき
- エ 布地に対して針が細すぎるとき

6. 下図のアウトターパンツの前型紙として最も適するものを、アからエまでの中から一つ選んで、その記号を解答欄に記入しなさい。



7. 下図の縫い方の名称を解答欄に記入しなさい。

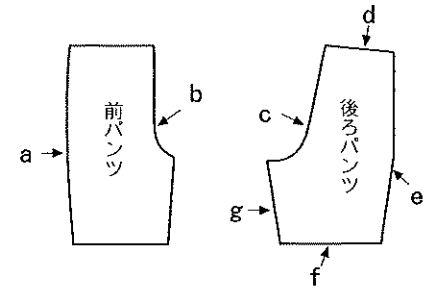


8. 右図はアウトターパンツの型紙である。(1)・(2)の問いに答えなさい。

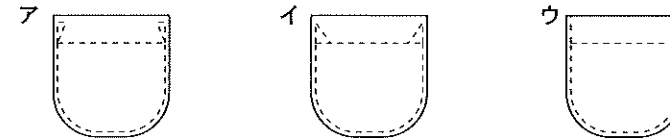
(1) 前パンツの a と b の名称をアからオまでの中からそれぞれ一つずつ選んで、その記号を解答欄に記入しなさい。

- ア すそ
- イ わき
- ウ 胴
- エ また下
- オ また上

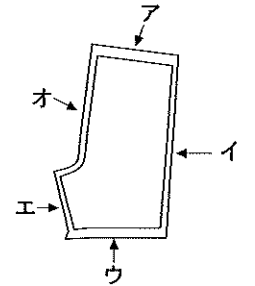
(2) 前パンツの a と縫い合わせる場所はどこか。後ろパンツの c から g までの中から一つ選んで、その記号を解答欄に記入しなさい。



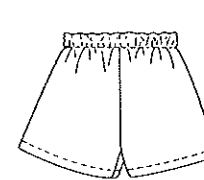
9. 下図はパッチポケットの口止めミシンのかけ方を示したものである。表布に力が加わらないで、布地が切れない縫い方を、アからウまでの中から一つ選んで、その記号を解答欄に記入しなさい。



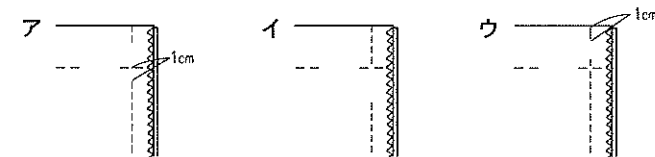
10. 右図のアウトターパンツの場合 (ウエストとすそは三つ折りにする), 縫いしろの始末のためにロックミシンをかける場所を、アからオまでの中から三つ選んで、その記号を解答欄に記入しなさい。



11. 下図のアウトターパンツを製作する場合、ウエストの始末について、次の(1)・(2)の問いに答えなさい。



(1) 幅広のゴムを通す場合、通し口の縫い方として正しいものをアからウまでの中から一つ選んで、その記号を解答欄に記入しなさい。



(2) ゴムテープの長さを見積もる場合、最も適するものをアからウまでの中から一つ選んで、その記号を解答欄に記入しなさい。

- ア ウエスト寸法×0.9
- イ ウエスト寸法×2
- ウ ウエスト寸法×0.5

問題	1		2		3		4	5		6	7	8			9	10		11	
	(1)	(2)	(1)	(2)	(1)	(2)		(1)	(2)			(2)	a	b		(1)	(2)	(1)	(2)
3 級 (第45回)																			
解答																			
得点																			
学校名	高校				学年		組	番号	氏名			合計							

3 級 筆 記 問 題

1. 次の文は被服の保健衛生上の機能について述べたものである。次の文章の(1)から(3)に最も適するものを、アからカまでの中からそれぞれ一つずつ選んで、その記号を解答欄に記入しなさい。

被服を着ると、被服と皮膚のすきまにわずかな空気の間層ができる。この空気の間層は(1)と呼ばれ、外界と異なる気候をつくり出し、被服内の温度・湿度をほぼ一定に保つ役割をする。通常、人が快適に感じる(1)の温度は(2)℃前後、湿度は50%前後である。被服は着用することで皮膚を清潔に保ち私たちのからだを保護することができる。たとえば(3)は、体から出る汗やあかなどを吸収し、皮膚を清潔に保つ役割をする。

- ア 作業服 イ 室内気候 ウ 32 エ 肌着 オ 被服気候 カ 35

2. 次の(1)・(2)の文について最も適する織物組織を、アからエまでの中からそれぞれ一つずつ選んで、その記号を解答欄に記入しなさい。

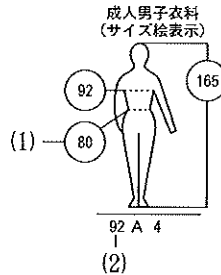
- (1) 一番光沢に富む (2) 斜めに線が見えてしなやかで厚く織られている

- ア 添毛織 イ 斜文織 ウ 平織 エ 朱子織

3. 衣類を保管する場合、最も食害されやすい繊維を、アからエまでの中から一つ選んで、その記号を解答欄に記入しなさい。

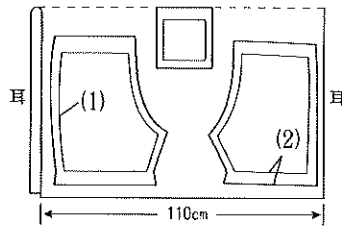
- ア 絹 イ ポリエステル ウ レーヨン エ 綿

4. 下図は成人男子衣料のサイズ絵表示である。(1)・(2)は何を意味するか。アからオまでの中からそれぞれ一つずつ選んで、その記号を解答欄に記入しなさい。



- ア チェスト イ ヒップ ウ 体型  
エ 身長 オ ウエスト

5. 下図はアウターパンツの裁断図である。図中の(1)には名称を、(2)には最も適する縫いしろの分量を、アからキまでの中からそれぞれ一つずつ選んで、その記号を解答欄に記入しなさい。



- ア また下 イ 胴 ウ わき エ すそ  
オ 5 cm カ 3 cm キ 1.5cm

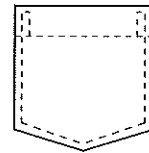
6. 次の裁縫用具の名称を解答欄に記入しなさい。



7. 既製服を選択するにあたって留意すべき事項をアからエまでの中から二つ選んで、その記号を解答欄に記入しなさい。

- ア 品質表示をよく見て購入する  
イ 流行で似合うデザインならサイズは少しがまんする  
ウ 縫い方や付属品をよく点検してよかったらデザインはがまんする  
エ 試着して、デザインとサイズが合うか確かめて選ぶ

8. 下図のポケットの作り方とつけ方について正しい手順を示しているものをアからウまでの中から一つ選んで、その記号を解答欄に記入しなさい。

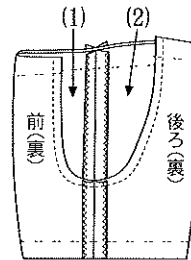


- a パンツに縫いつける  
b ポケット口以外の縫いしろを折る  
c ポケット口の縫いしろを三つ折りにする  
d ポケット口を三つ折り縫いにする
- ア c→b→d→a  
イ c→d→b→a  
ウ d→c→b→a

9. ミシン縫いの方法について、文中の( )に最も適する語句を解答欄に記入しなさい。


- (1) 直角の部分にミシンをかけるときは、針を角に刺したまま(1)を上げて、布を動かすときれいに縫える  
(2) ミシン縫いの始めと終りは、(2)をすると、ほどけにくくてじょうぶになる

10. 下図はアウターパンツを縫うときのまた上の合わせ方を示している。(1)・(2)に最も適する語句をアからエまでの中からそれぞれ一つずつ選んで、その記号を解答欄に記入しなさい。



- ア 前(表)  
イ 後ろ(表)  
ウ 前(裏)  
エ 後ろ(裏)

11. 下図は縫いしろ始末の方法を示したものである。端ミシンをアからエまでの中から一つ選んで、その記号を解答欄に記入しなさい。



問 題	1			2		3	4		5		6		7	8	9		10		11
	(1)	(2)	(3)	(1)	(2)		(1)	(2)	(1)	(2)	(1)	(2)			(1)	(2)			
3 級 (第46回)																			
解 答																			
得 点																			
学校名	高校			学年		組	番号		氏名			合計							

3 級 筆記問題


1. 次の文の(1)から(3)に最も適するものを、アからカまでの中からそれぞれ一つずつ選んで、その記号を解答欄に記入しなさい。

私たちは被服を着ることによって外の気温とは違った人工的気候をつくって温度や湿度の調節をしている。これを(1)という。皮膚と肌着との間の温度が平均(2)内外、湿度が(3)内外のときに最も快適に感じる。

- ア 衣服気候 イ 住居気候 ウ 18℃ エ 32℃ オ 50% カ 70%

2. 右図は織物の組織を示したものである。(1)・(2)の問いに答えなさい。

- (1) 組織の名称を解答欄に記入しなさい。  
 (2) 組織の特徴を、アからウまでの中から一つ選んで、その記号を解答欄に記入しなさい。



- ア 摩擦に弱い光沢に富み、手ざわりがしなやかですべりがよい  
 イ 糸の交錯が多いため、糸がずれにくく丈夫で実用的である  
 ウ しなやかで、斜めの線がでてしわになりにくい

3. 下のJISで表示されたものと同じ取り扱いを示しているのはアとイのどちらか。適するものを選んで、その記号を解答欄に記入しなさい。

JIS

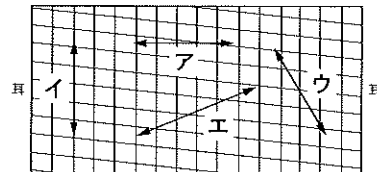
					ア					
					イ					

4. 地直しについて、次の(1)・(2)の問いに答えなさい。

(1) 綿織物に最も適する地直しの方法を、アからウまでの中から一つ選んで、その記号を解答欄に記入しなさい。

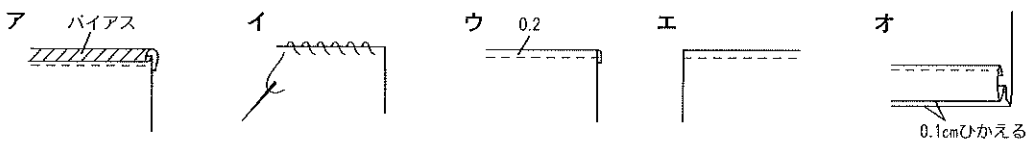
- ア 防縮加工をしていない場合は水につけ、生乾きの時にアイロンをかける。温度は高温にする  
 イ 布目を整え、折りじわを消す程度に裏側から軽くアイロンをかける。温度は中温にする  
 ウ 布目を整える程度にアイロンをかける。温度は低温にする

(2) 右図は布目を正しくするために布地を引っぱる方向を示したものである。最も適するものを、アからエまでの中から一つ選んで、その記号を解答欄に記入しなさい。

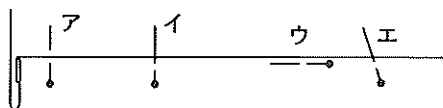


5. 下図は縫いしろ始末の方法を示したものである。(1)・(2)について最も適するものを、アからオまでの中からそれぞれ一つ選んで、その記号を解答欄に記入しなさい。

(1) 捨てミシン (2) かがり縫い

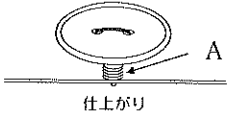


6. 下図はまち針のうち方を示したものである。正しいうち方をアからエまでの中から一つ選んで、その記号を解答欄に記入しなさい。



7. 右図はボタンの付け方の図である。(1)・(2)の問いに答えなさい。

- (1) Aの名称を解答欄に記入しなさい。  
 (2) Aの目的をアからウまでの中から一つ選んで、その記号を解答欄に記入しなさい。
- ア ボタンの損傷を防ぐため  
 イ 布地をいためないようにするため  
 ウ 布の厚みを確保して、ボタンをはめやすくするため



8. アウターパンツの仕上げについて、ウエスト60cmのアウターパンツに幅広のゴムテープを通す場合、ゴムテープはどれくらいの長さが適当か、最も適するものをアからエまでの中から一つ選んで、その記号を解答欄に記入しなさい。ただし、両端の重なり分は含まないものとする。

- ア 46cm イ 54cm ウ 62cm エ 68cm

9. 下図はアウターパンツの裁ち方を示したものである。(1)・(2)の問いに答えなさい。

- (1) 前パンツはA、Bのうちどれか、解答欄に記入しなさい。  
 (2) 図中①・②の記号の意味をアからオまでの中から一つずつ選んで、その記号を解答欄に記入しなさい。

90cm幅の布  
二つ折り

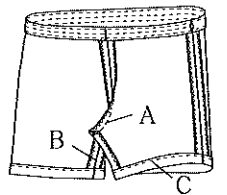
ア 直角 イ 合いじるし  
 ウ たての布目 エ つき合わせる  
 オ バイアスにとる

10. アウターパンツのわきの縫い方で留意すべき事項をアからウまでの中から一つ選んで、その記号を解答欄に記入しなさい。

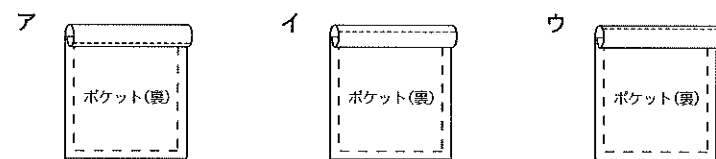
- ア 前パンツどうしを中表にして、出来上り線どおりに縫う  
 イ 前パンツと後ろパンツを中表にして、出来上り線どおりに縫う  
 ウ 前パンツと後ろパンツを外表にして、裁ちはしどうしをそろえて縫う

11. 右図はアウターパンツのできあがり図である。A・B・Cの縫う順序として正しいものをアからウまでの中から一つ選んで、その記号を解答欄に記入しなさい。

- ア A → C → B  
 イ B → A → C  
 ウ C → A → B



12. 下図はポケット口のミシンのかけ方を示したものである。最も適するものを、アからウまでの中から一つ選んで、その記号を解答欄に記入しなさい。



問題	1			2		3	4		5		6	7		8	9		10	11	12	
	(1)	(2)	(3)	(1)	(2)		(1)	(2)	(1)	(2)		(1)	(2)		(1)	(2)				
3級(第47回)																				
解答																				
得点																				
学校名	高校				学年		組		番号		氏名				合計					

3 級 筆 記 問 題

1. 次の文の(1)・(2)に最も適するものを、アからオまでの中からそれぞれ一つずつ選んで、その記号を解答欄に記入しなさい。

被服は、体を外界から守り、皮膚を清潔に保ち、保護する機能をもつ。被服を着ると、皮膚との間、あるいは重ねた被服との間に（1）ができ、外の空気とは異なる温度や湿度をもつ気候をつくり出す。これを衣服気候といい、（2）を一定に保つ補助をする。

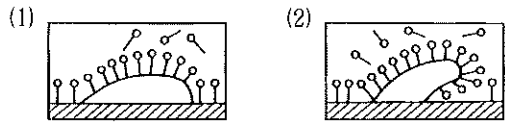
- ア 体温 イ 汗 ウ 吸湿性 エ 空気層 オ 住居気候

2. 次の(1)・(2)の目的をもつ繊維製品の加工の名称を、アからオまでの中からそれぞれ一つずつ選んで、その記号を解答欄に記入しなさい。

- (1) 型崩れや縫いつれを防ぎ、アイロンかけの手間を省くもの  
 (2) 水蒸気を通すが水滴は通さないもの


- ア 防水加工 イ 防汚加工 ウ 防しわ加工 エ 透湿防水加工 オ 形態安定加工

3. 下図は洗濯の原理を示したものである。(1)・(2)の説明として最も適するものをアからウまでの中からそれぞれ一つずつ選んで、その記号を解答欄に記入しなさい。




- ア 再附着防止作用によって汚れは再び洗濯物につかない  
 イ 浸透作用により汚れと繊維の間にはいる  
 ウ 洗剤の分子が汚れの表面に集まる

4. 下図の衣装の構成について、ア・イの中から一つ選んで、その記号を解答欄に記入しなさい。

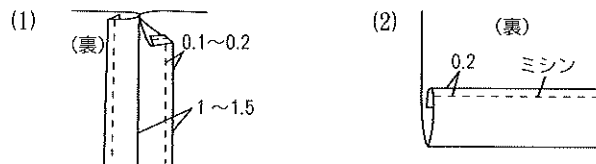


- ア 平面構成  
 イ 立体構成

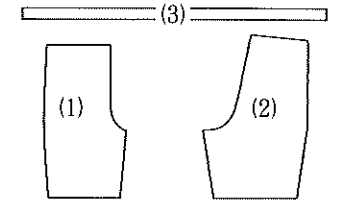
5. 次の裁縫用具の名称を解答欄に記入しなさい。



6. 下図の(1)・(2)の縫いしろの始末の名称を解答欄に記入しなさい。

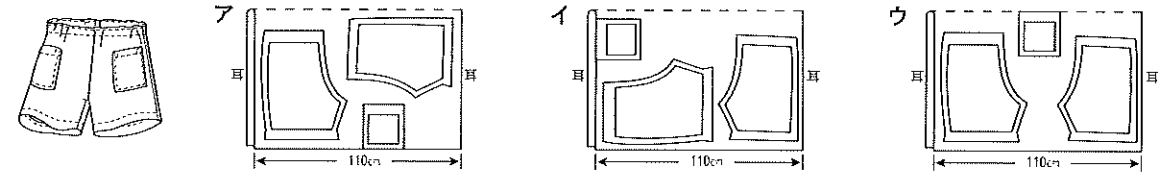


7. 右図はアウターパンツの型紙である。(1)から(3)の名称を、アからウまでの中からそれぞれ一つずつ選んで、その記号を解答欄に記入しなさい。



- ア ベルト イ 前パンツ ウ 後ろパンツ

8. 下図は110cm幅の無地の布を使用したアウターパンツの裁ち方である。型紙の置き方が正しいものをアからウまでの中から一つ選び、その記号を解答欄に記入しなさい。

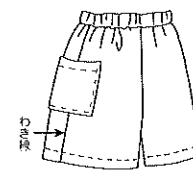


9. 次の文は、ソフトデニムを用いたアウターパンツの製作について述べたものである。(1)・(2)に最も適するものをアからオまでの中からそれぞれ一つずつ選んで、その記号を解答欄に記入しなさい。

仮縫いは、本縫いの前に、体型に合っているか、希望のデザインになっているかを確認するために、(1)で粗く縫って形づくり。補正は、試着して、(2)量やパンツ丈を点検し、不都合な部分を補正する。

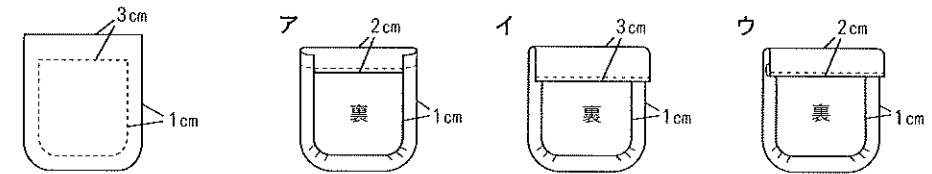
- ア たて イ よこ ウ 地直し エ ゆとり オ しつけ糸

10. 下図のアウターパンツを製作する場合、どのような順序で縫ったらよいか。(1)から(3)に最も適するものを、アからウまでの中からそれぞれ一つずつ選んで、その記号を解答欄に記入しなさい。



- (1) → ポケットをつける → また下を縫う → (2) → ウエストの始末 → (3)  
 ア また上を縫う  
 イ わきを縫う  
 ウ すその始末

11. 下図のように裁断したポケットをつける場合、縫いしろの折り方が最も適切なものをアからウまでの中から一つ選んで、その記号を解答欄に記入しなさい。



問 題	1		2		3		4	5	6		7			8	9			10			11
	(1)	(2)	(1)	(2)	(1)	(2)			(1)	(2)	(3)	(1)	(2)		(3)	(1)	(2)	(3)			
3 級 (第48回) 解 答																					
得 点																					
学 校 名	高 校				学 年		組		番 号		氏 名			合 計							

3 級 筆記問題

1. 保温効果をあげる冬着の着方について、(1)・(2)に最も適する語句を、アからオまでの中からそれぞれ一つずつ選んで、その記号を解答欄に記入しなさい。

暖かい着方として内側に ( 1 ) の多い綿メリヤス等をゆったり着用し、外側に ( 2 ) の少ないものを選んで着用する。

- ア 吸湿性    イ 通気性    ウ 熱伝導率    エ 含気量    オ 被覆面積

2. 次の(1)・(2)の繊維にあてはまるものを、アからオまでの中からそれぞれ一つずつ選んで、その記号を解答欄に記入しなさい。

- (1) 動物繊維    (2) 半合成繊維

- ア アクリル    イ アセテート    ウ キュプラ    エ 絹    オ 綿





3. 毛100%の白いセーターを手洗いする場合、(1)・(2)の問いについて最も適するものを、それぞれのアからウまでの中から一つずつ選んで、その記号を解答欄に記入しなさい。

- (1) 適した洗剤はどれか。    (2) 適した洗い方はどれか。

- ア 石けん    イ 弱アルカリ性洗剤    ウ 中性洗剤  
 ア もみ洗いにする    イ 押し洗いにする    ウ つかみ洗いする

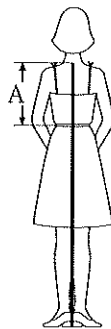
4. 次の(1)・(2)について、あてはまる表示をアからエまでの中からそれぞれ一つずつ選んで、その記号を解答欄に記入しなさい。

- (1) 独創的で能率的な意匠の商品として認めたグッドデザインマーク  
 (2) スポーツウエアなど、フルファッション編み機でつくられた製品につけられる


- ア     イ     ウ     エ 

5. 右図のAは採寸箇所を示したものである。最も適する名称をアからオまでの中から一つ選んで、その記号を解答欄に記入しなさい。


- ア 腰たけ    イ 背幅    ウ 背たけ    エ 着たけ    オ 床上がり寸法



6. 90cm幅(無地)で下図のアウトターパンツを製作する場合、布の見積もり方として最も適するものをアからウまでの中から一つ選んで、その記号を解答欄に記入しなさい。



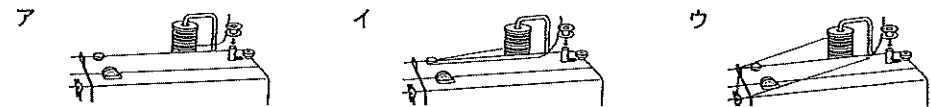
- ア {パンツたけ+縫いしろ(10cm)} × 2  
 イ パンツたけ+縫いしろ(10cm)  
 ウ パンツたけ × 2



7. 右図の裁縫用具の名称を解答欄に記入しなさい。

8. 次の(1)・(2)の問いについて、正しいものをそれぞれのアからウまでの中から一つずつ選んで、その記号を解答欄に記入しなさい。

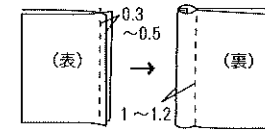
- (1) ミシンの下糸を巻くときの糸のかけ方



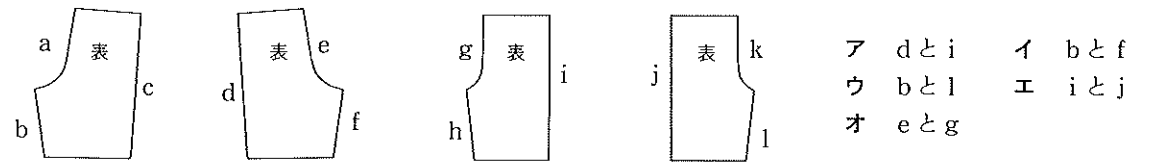
- (2) ミシンの下糸の巻き状態



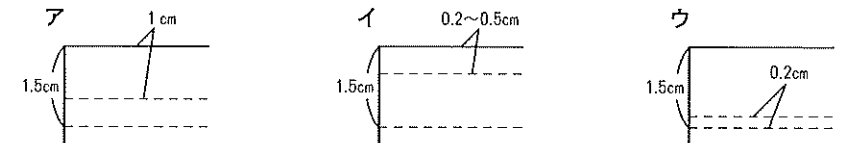
9. 右図の縫いしろの始末の名称を解答欄に記入しなさい。



10. アウターパンツの布を裁断したところ、下図の4枚になった。縫い合わせる箇所の組み合わせとして適するものをアからオまでの中から二つ選んで、その記号を解答欄に記入しなさい。



11. 縫いしろ始末の二度縫いをするとき、最も適するものをアからウまでの中から一つ選んで、その記号を解答欄に記入しなさい。



12. アウターパンツのまた上の縫い方について、(1)・(2)に最も適する語句を、アからオまでの中からそれぞれ一つずつ選び、その記号を解答欄に記入しなさい。また、文中の下線部(a)について、最も適切なものをカからクまでの中から一つ選び、その記号を解答欄に記入しなさい。

- ・左右のパンツを ( 1 ) に合わせ、しるし通りに縫い合わせる。
- ・また下の交差した部分は、補強のため 重ね縫い をする。縫いしろは ( 2 )。

- ア 中表    イ 外表    ウ 右パンツに倒す    エ 左パンツに倒す    オ アイロンで割る  
 カ また下の交差部分の前後それぞれ1~2cmを重ね縫いする  
 キ また下の交差部分の前後それぞれ7~8cmを重ね縫いする  
 ク 前パンツ部分のみ、すべて重ね縫いする

問 題	1		2		3		4		5	6	7	8		9	10	11	12			
	(1)	(2)	(1)	(2)	(1)	(2)	(1)	(2)				(1)	(2)				(a)			
3 級 (第49回) 解 答																				
得 点																				
学校名	高校				学年		組		番号		名前		合計							

3 級 筆 記 問 題

1. 下着について文中の(1)・(2)に最も適する語句を、アからエまでの中からそれぞれ一つずつ選んで、その記号を解答欄に記入しなさい。

下着は着装の基礎となるもので、自分の ( 1 ) にあったものを選び、上着の ( 2 ) を生かすことができるよう着用することが大切である。

- ア バスト      イ デザイン      ウ すべり      エ サイズ



2. 次の(1)・(2)の繊維名について最も適するものを、アからエまでの中からそれぞれ一つずつ選んで、その記号を解答欄に記入しなさい。

- (1) ストッキングなどに用いられている繊維で、吸湿性がほとんどなく熱に弱い、ひっぱりや摩擦に強い。  
 (2) ゴムのように伸縮性が大きく、水着などに利用される。

- ア レーヨン      イ ポリウレタン      ウ ポリエステル      エ ナイロン

3. 次の(1)・(2)の説明にあてはまる洗濯表示記号を、アからエの中からそれぞれ一つずつ選んで、その記号を解答欄に記入しなさい。


- (1) 酸素系漂白剤の使用はできるが、塩素系漂白剤は使用禁止。  
 (2) 日陰のつり干しがよい。

- ア       イ       ウ       エ 

4. 次の説明にあてはまるファッションの名称を答えなさい。また、説明に関係するものを、アからウまでの中から一つ選んで、その記号を解答欄に記入しなさい。

- ・素材調達から製造、流通にいたるまで生産者労働条件や自然環境などに配慮した方法でつくられたファッション  
 ア 低い製造コスト      イ オーガニックコットン      ウ ウエストがゴムで自在に調整できるジーンズ

5. 右図はミシン縫いの上糸と下糸のつり合いを示したものである。(1)・(2)の問いに答えなさい。



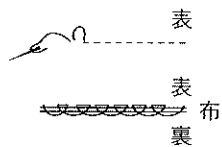
(1) つり合いの状態をア・イの中から一つ選んで、その記号を解答欄に記入しなさい。

- ア 上糸が弱い      イ 上糸が強い

(2) つり合いを良くするためにはどうしたらよいか。アからウまでの中から一つ選んで、その記号を解答欄に記入しなさい。

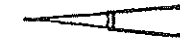
- ア 送り調節ダイヤルの目盛りを大きくする      イ 上糸調節ダイヤルの目盛りを小さくする  
 ウ 上糸調節ダイヤルの目盛りを大きくする

6. 下図の縫い方の名称を、アからエまでの中から一つ選んで、その記号を解答欄に記入しなさい。



- ア 千鳥がけ      イ 半返し縫い  
 ウ 本返し縫い      エ まつり縫い

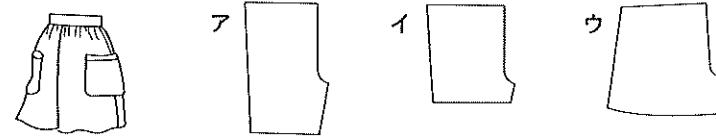
7. 右図の裁縫用具の名称を解答欄に記入しなさい。



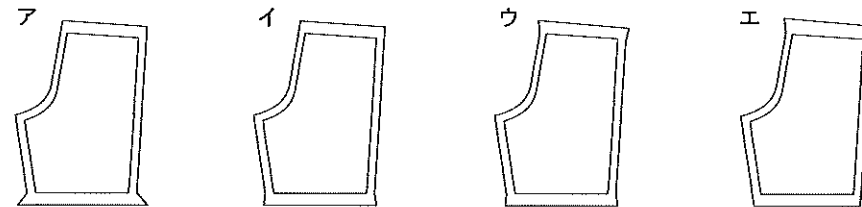
8. アウターパンツを製作する場合、必要な採寸箇所をアからエまでの中から一つ選んで、その記号を解答欄に記入しなさい。

- ア 背たけ      イ 腰たけ      ウ 腰囲      エ 胸囲

9. 下図のデザインのアウターパンツで前パンツの型紙として最も適するものを、アからウまでの中から一つ選んで、その記号を解答欄に記入しなさい。



10. 下図はアウターパンツの縫いしろを示したものである。最も適しているものをアからエまでの中から一つ選んで、その記号を解答欄に記入しなさい。



11. アウターパンツのしるしつけについて、(1)・(2)に最も適する語句をアからエまでの中から一つずつ選んで、その記号を解答欄に記入しなさい。

しるしつけは、布地に合わせて行う。綿・麻・化繊などは、外表に合わせ、間に ( 1 ) をはさみ、( 2 ) で布地裏面にしるしをつける。

- ア しつけ糸      イ チャコペーパー      ウ ものさし      エ ルレット

12. アウターパンツの縫い方の手順について、(1)から(3)に最も適する語句を、アからカまでの中からそれぞれ一つずつ選んで、その記号を解答欄に記入しなさい。

1. 前後のパンツを中表に合わせ、( 1 ) とまた下を縫う。  
 2. 左右のパンツを中表に合わせ、また上を縫う。縫いしろは ( 2 ) 。  
 3. ウエストとすそは ( 3 ) をする。

- ア ゴム通し口      イ わき      ウ 右に倒す      エ 割る      オ 重ね縫い  
 カ 三つ折り縫い

問 題	1		2		3		4		5		6	7	8	9	10	11		12			
	(1)	(2)	(1)	(2)	(1)	(2)	名称	記号	(1)	(2)						(1)	(2)	(1)	(2)	(3)	
3 級 (第 50 回) 解 答																					
得 点																					
学 校 名	高 校		学 年		組		番 号		名 前		合 計										